



التاريخ:	الفصل الدراسي الأول 2017-2018 الخطط العلاجية للصف الثاني
التغذية الراجعة:	إسم الطالب: الصف: الشعبة:

ضع دائرة حول رمز الإجابة الصحيحة فيما يأتي:

(1) ما هو العدد الذي يأتي قبل 9 وبعد 7 ؟

a) 5

b) 6

c) 8

d) 10

النموذج ؟

جزء 	جزء 
.....	5
الكل	
9	

(2) ما الجزء الناقص من العدد 9 في

a) 2

b) 3

c) 4

d) 5



(3) ما جملة الطرح العددية التي تعبر عن النموذج؟

a)  $3+3=6$

b)  $3+4=7$

c)  $7-3=4$

d)  $6-3=3$

(4) أوجد ناتج  $5+0=$

a) 3

b) 4

c) 5

d) 6

(5) أوجد الحد الجمعي الناقص في  $7 + \square = 10$  ؟



a) 3

b) 4

c) 5

d) 6

(6) ما عدد العناصر الإضافية عن العدد 10 في الشكل أدناه ؟



a) 3

b) 4

c) 5

d) 6

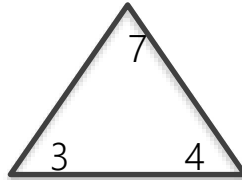
(7) حقيبة أحمد فيها 5 كتب , والعدد ذاته في حقيبة رامي . ما مجموع الكتب في الحقيبتين ؟

a) 7

b) 8

c) 9

d) 10



(8) ما الحقيقة التي يمكن تكوينها باستخدام الأعداد ؟

a)  $3+4=7$

b)  $4-3=1$

c)  $3+3=6$

d)  $4+2=6$

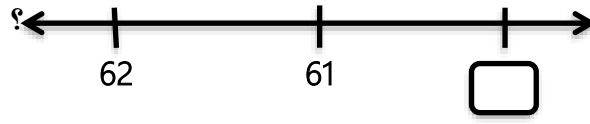
(9) أي من الأعداد الآتية هو ستة وثلاثون ؟

a) 60

b) 63

c) 36

d) 40



(10) ما هو العدد الناقص على خط الأعداد

a) 58

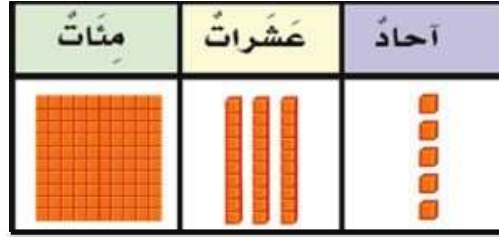
b) 59

c) 60

d) 63

؟

(11) ما هو العدد الذي يوضحه النموذج



a) 134

b) 135

c) 136

d) 137

(12) أوجد الناتج في النموذج

	العشرات	الآحاد
	5	3
+		6

a) 57

b) 58

c) 59

d) 60

(13) 2 عشرات + 5 عشرات = \_\_\_\_\_ عشرات ؟

a) 7

b) 8

c) 9

d) 10

14) ما العبارات الصحيحة التي تناسب النموذج ؟

العشرات	الأحاد
3	2
4	4

- a)  $42 < 50$   
c)  $44 > 32$

- b)  $43 > 42$   
d)  $34 < 42$

15) ما الوقت الموضح في الساعة التالية ؟



- a) 6:20  
c) 4:20

- b) 6:40  
d) 4:30

16) ما عدد الأشخاص الذين شاركوا في الإستطلاع الرأي ؟

الألعاب المفضلة				
		♥	♥	كرة القدم ♥
★	★	★	★	السلة ★
		😊	😊	التنس 😊

- a) 5  
c) 7

- b) 6  
d) 8

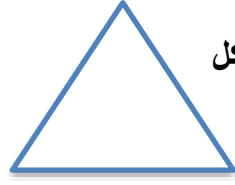
17) كم يزيد عدد من يحبون التفاح عن الذين يحبون الموز ؟

ما نحب تناوله				
				الموز
				التفاح
				الفراولة

- a) 1  
c) 3

- b) 2  
d) 4

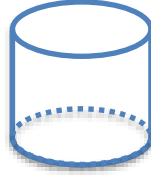
18) ما عدد رؤوس الشكل ؟



- a) 0  
c) 2

- b) 1  
d) 3

19) ما عدد أوجه الاسطوانة ؟





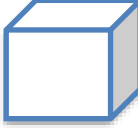
- a) 0  
c) 4

- b) 2  
d) 6

20) حدد الشكل الذي يشبهه ؟



- a)   
c) 

- b)   
d) 