



## الاختبار التدريبي

### نبذة عن الاختبار التدريبي

يحتوي الاختبار التدريبي على 10 أسئلة. صمم هذا الاختبار ليعطيك فكرة عن نمط أسئلة اختبار IBT الرئيسي.

### أجب على الأسئلة:

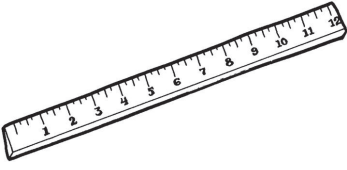
كل سؤال لديه أربعة اختيارات. اختر الإجابة الأنسب من الاختيارات الأربعة : A ، B ، C ، D. سوف تجد إجابات الأسئلة في آخر صفحة من هذا الكتيب.

### الأدوات المسموح بها في هذا الاختبار

يمكن استخدام قلم رصاص في هذا الاختبار. لا يمكنك استخدام المعجم.

### الزمن المخصص للاختبار :


الزمن المحدد لإكمال الاختبار هو 15 دقيقة.




مسطرة



طباشير



زنبرك



قلم

1 أي من المواد التالية سهلة التمدد؟

- A مسطرة  
B طباشير  
C زنبرك  
D قلم


2 أي وحدة تستخدم لقياس الحجم؟

- A لتر  
B جرام  
C متر  
D ثانية

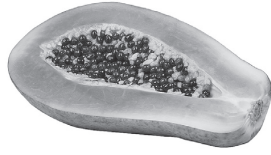
3 أي حيوان يأكل نباتات فقط؟

- A القط  
B الكلب  
C الأسد  
D الأرنب

4 ما المفقود في السلسلة الغذائية التالية؟



D



C




B



A

5 يتغير لون الخبز ويصبح قاسياً عندما يوضع بالمحمصة الكهربائية.

ما الذي يتسبب في تحميص الخبز؟



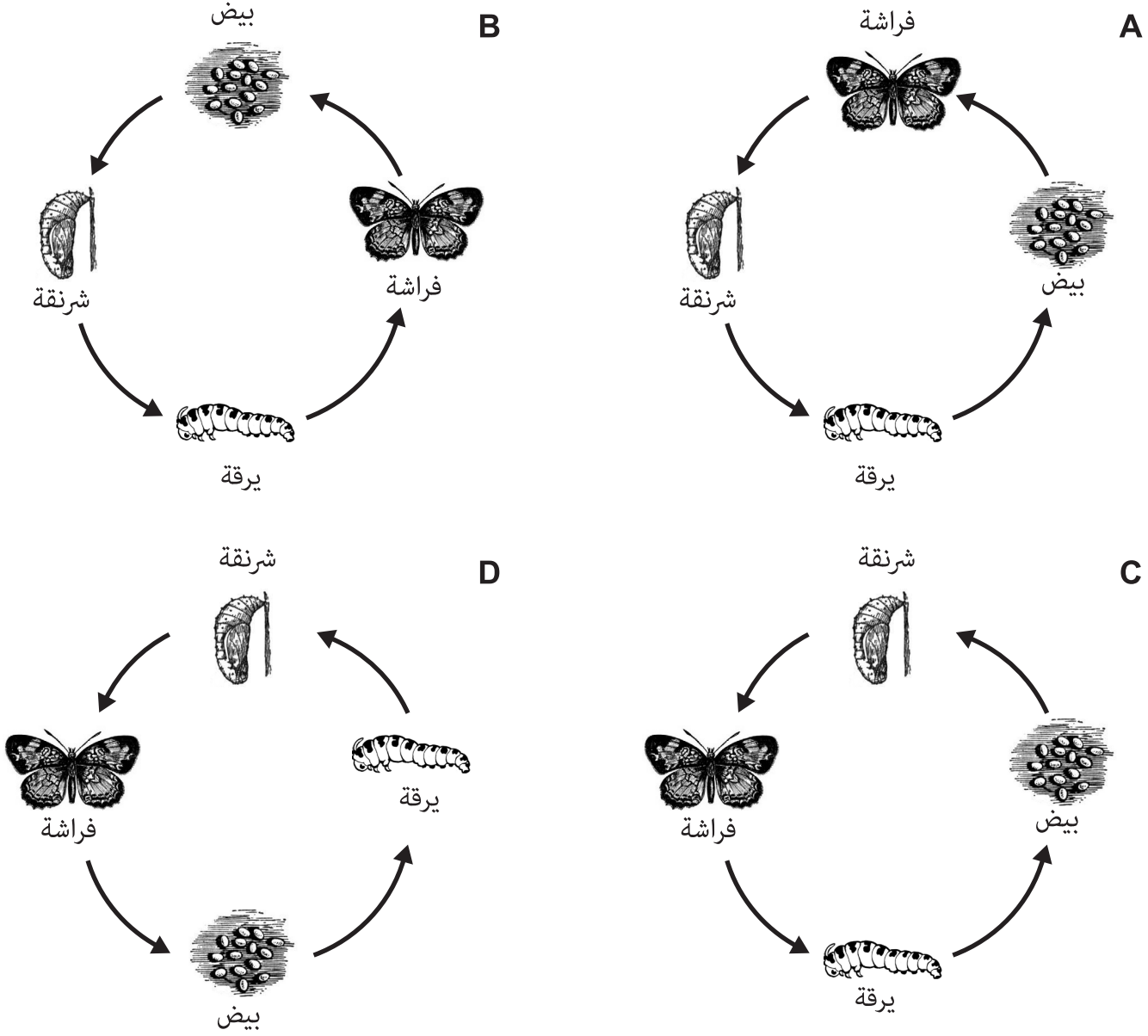
A الضوء

B الحرارة

C الصوت

D الحركة

6 أي مما يلي يبين دورة حياة الفراشة بالترتيب الصحيح؟



تأمل الصورة التالية للإجابة عن السؤالين (7-8).



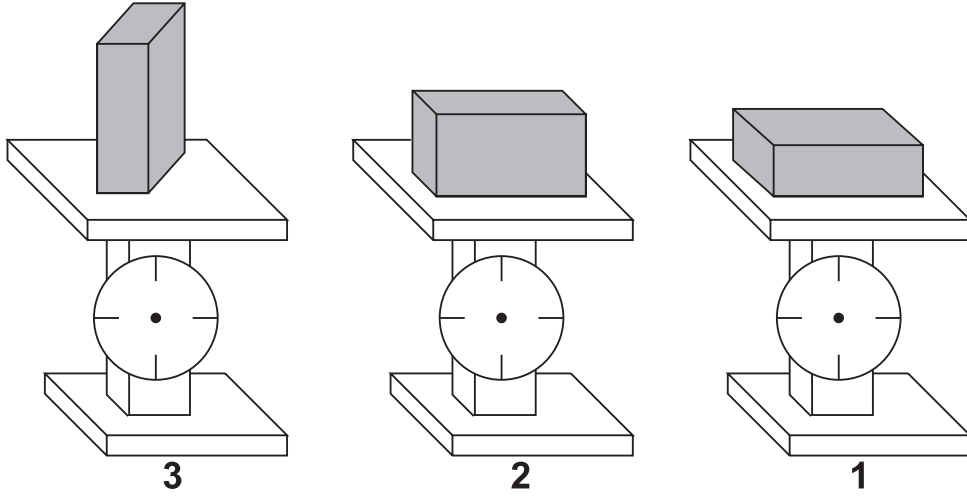
7 أي من المجموعات التالية تمثل كائنات حية فقط؟

- A مزارع، تربة
- B فأس، منزل المزرعة
- C نبته الذرة، مزارع
- D تربة، نبته الذرة

8 ماذا تحتاج الذرة لتنمو؟

- A ماء، ضوء الشمس، هواء
- B تربة، ماء، فأس
- C هواء، ضوء الشمس، مزارع
- D مزارع، فأس، تربة

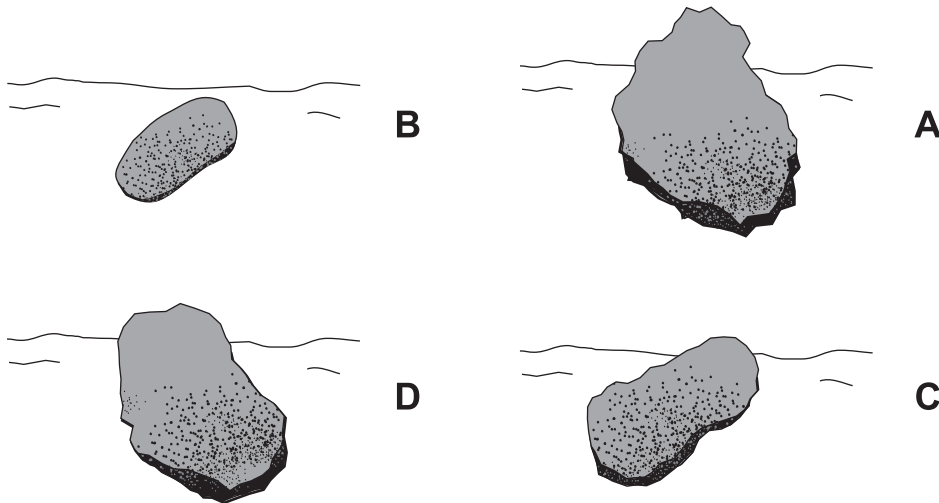
وُضعت نفس الطابوقة فوق الميزان بثلاث طرق مختلفة.



9 ما الذي سيظهره الميزان؟

- A الميزان 1 سيظهر أكبر وزن.
- B الميزان 2 سيظهر أكبر وزن.
- C الميزان 3 سيظهر أكبر وزن.
- D جميع الموازين ستظهر نفس الوزن.

10 وجدت ليلي أربع صخور تتكون من نفس المادة في مجرى أحد الأنهار. إنها تختلف من حيث الشكل والحجم. أي صخرة على الأرجح انتقلت إلى مسافة أبعد في مجرى النهر؟



الإجابات الصحيحة

<b>C</b>	1
<b>A</b>	2
<b>D</b>	3
<b>B</b>	4
<b>B</b>	5
<b>D</b>	6
<b>C</b>	7
<b>A</b>	8
<b>D</b>	9
<b>B</b>	10

