



الاختبار التدريبي

نبذة عن الاختبار التدريبي

يحتوي الاختبار التدريبي على 10 أسئلة. صمم هذا الاختبار ليعطيك فكرة عن نمط أسئلة اختبار IBT الرئيسي.

أجب على الأسئلة:

كل سؤال لديه أربعة اختيارات. اختر الإجابة الأنسب من الاختيارات الأربعة : **A ، B ، C ، D**.
سوف تجد إجابات الأسئلة في آخر صفحة من هذا الكتيب.

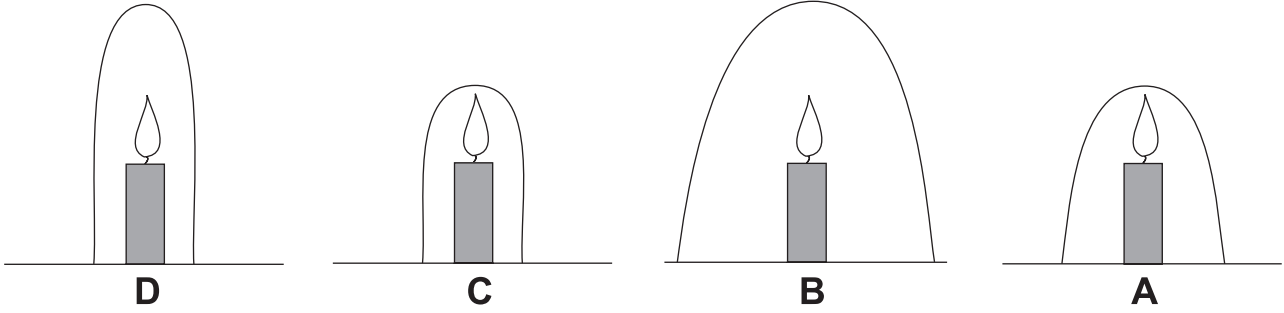
الأدوات المسموح بها في هذا الاختبار

يمكن استخدام قلم رصاص في هذا الاختبار. لا يمكنك استخدام المعجم.

الزمن المخصص للاختبار :

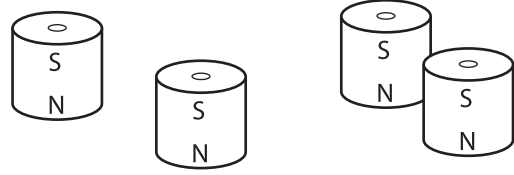
الزمن المحدد لإكمال الاختبار هو 15 دقيقة.

1 تُظهر الصور بالأسفل أربع شموع متماثلة. كل شمعة مشتعلة مغطاة بوعاء زجاجي ذي حجم مختلف. أي شمعة ستأخذ وقتاً أطول حتى تنطفئ؟



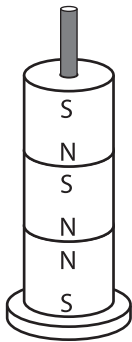
2 إذا قمنا برمي كلٍ من الأشياء التالية، أي منها سيتحلل أولاً؟

- A قارورة زجاجية
- B علبة معدنية
- C قارورة بلاستيكية
- D لُب تفاحة

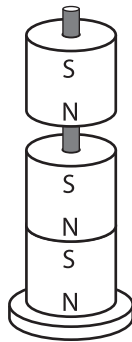


لدى عبدالله عدة مغناطيسات أسطوانية كتب عليها (N) شمال و (S) جنوب.
يضع عبدالله بعضًا من هذه المغناطيسات على عصا فتتنافر أحيانًا وتتجاذب أحيانًا أخرى.

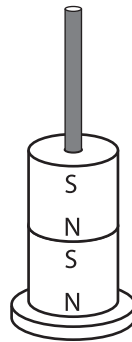
3 أي صورة تُظهر ما يُحتمل حدوثه؟



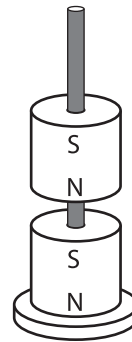
D



C



B



A

4 ماذا يغطي معظم سطح الكرة الأرضية؟


A الماء

B اليابسة

C الأراضي الزراعية

D المدن والقرى

5 هذه صورة للأرض والشمس في الفضاء.



في هذه الصورة

- A** نهار عند Y وليل عند X.
B ليل عند Y ونهار عند X.
C نهار عند كل من X و Y.
D ليل عند كل من X و Y.

6 الوقت الذي تستغرقه الأرض في الدوران حول محورها يعادل تقريباً

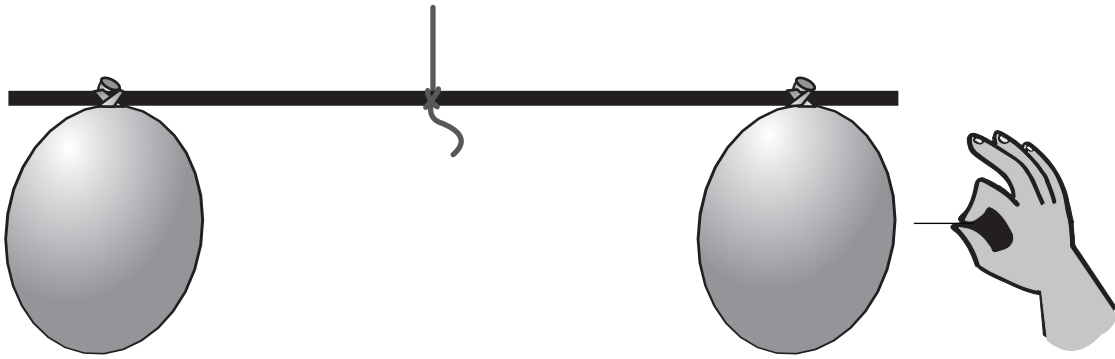


- A** 365 يوماً.
B 28 يوماً.
C 24 ساعة.
D 60 دقيقة.

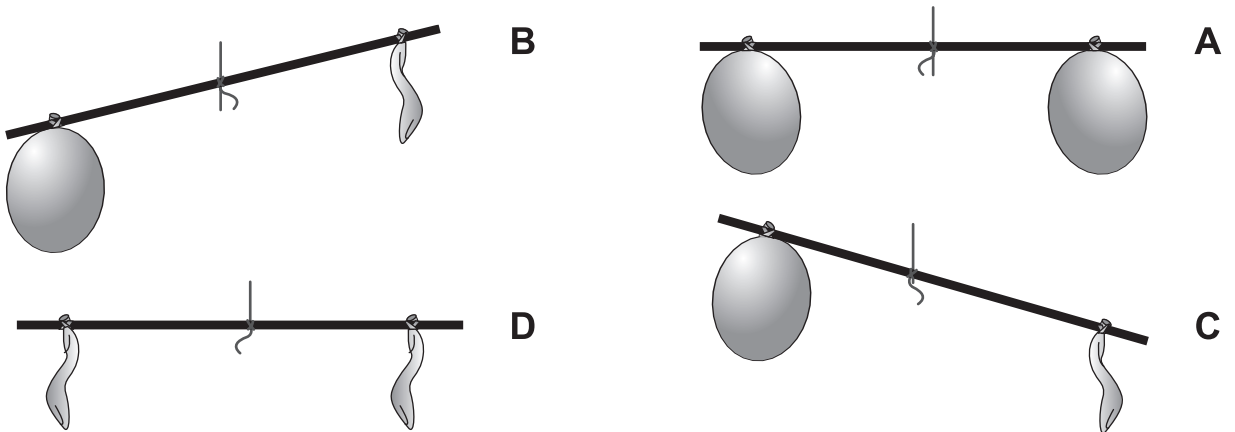
7 أعطى سمير بضعة أسباب لصنع بعض أنواع أواني الطبخ من مادة النحاس. أي سبب هو الصحيح؟

- A النحاس موصل جيد للحرارة.
- B النحاس ينصهر بسهولة.
- C النحاس يصعب تشكيله.
- D النحاس يذوب في الماء الساخن.

8 ربط عادل بالونين بعصا معلقة بخيط. يقوم عادل بتفجير أحد البالونين بدبوس.




أي صورة تُظهر ما سيحدث؟



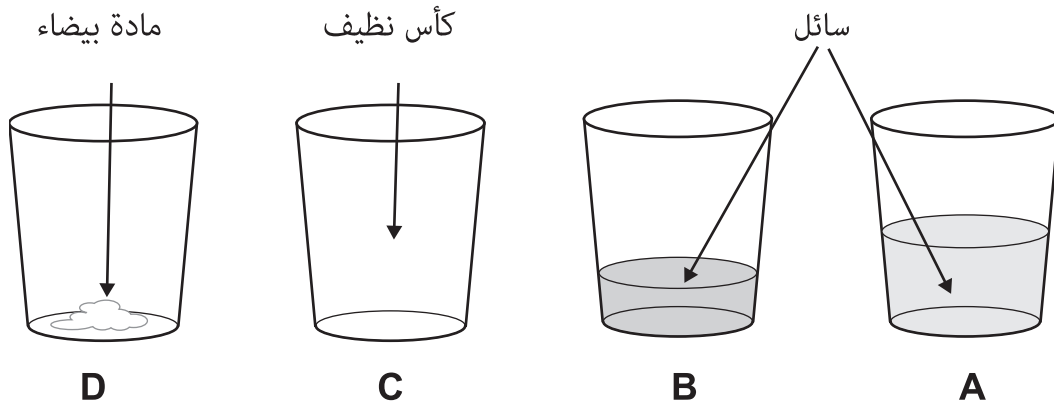
9 تستخدم المعادن في صناعة كثير من الأشياء مثل الجواهر، والطباشير، والإسمنت.
من أين نحصل على المعادن لصناعة هذه الأشياء؟

- A من الهواء
- B من الخشب
- C من الصخور
- D من المحاصيل الزراعية



تركت فاطمة بعض امياه المالحه في كأس زجاجي
تحت أشعة الشمس الحارة لمدة 5 ساعات.

10 ماذا يمكن أن تتوقع فاطمة رؤيته بعد مرور 5 ساعات؟



الإجابات الصحيحة

B	1
D	2
B	3
A	4
A	5
C	6
A	7
B	8
C	9
D	10

