

الاختبار التدريبي

نبذة عن الاختبار التدريبي

يحتوي الاختبار التدريبي على 10 أسئلة. صمم هذا الاختبار ليعطيك فكرة عن نمط أسئلة اختبار IBT الرئيسي.

أجب على الأسئلة:

كل سؤال لديه أربعة اختيارات. اختر الإجابة الأنسب من الاختيارات الأربعة : **A ، B ، C ، D**.
سوف تجد إجابات الأسئلة في آخر صفحة من هذا الكتيب.


الأدوات المسموح بها في هذا الاختبار

يمكن استخدام قلم رصاص في هذا الاختبار. لا يمكنك استخدام الآلة الحاسبة في هذا الاختبار.

الزمن المخصص للاختبار :

الزمن المحدد لإكمال الاختبار هو 15 دقيقة.

1 يقف إنسان آلي بجانب فتاة.



في أي اتجاه يجب على الإنسان الآلي أن يدور لكي يرى الفتاة؟

- A ربع دورة إلى يساره
- B ثلاثة ارباع دورة إلى يساره
- C ربع دورة إلى يمينه
- D نصف دورة إلى يمينه

2 عمل محمود دراسة عن وسيلة وصول 60 طالبًا إلى المدرسة؟

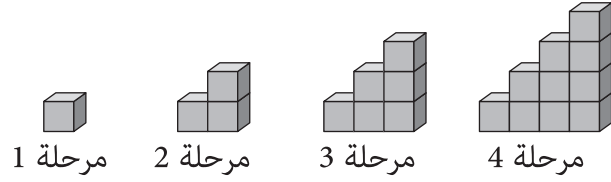
وسيلة المواصلات	عدد الطلبة
دراجة	12
باص	14
سيارة	11
قطار	10
مشياً	?

كم عدد الطلبة الذين يذهبون مشياً إلى المدرسة؟

- A 10
- B 11
- C 12
- D 13

3

يقوم خالد بعمل نمطاً معيناً باستخدام المكعبات على عدة مراحل. بحيث لا يوجد مكعبات مخفية.

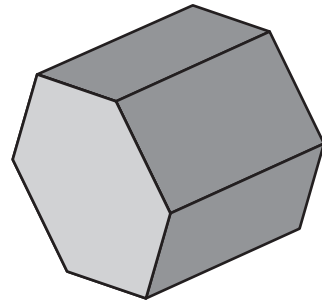


يستكمل خالد عمل هذا النمط.

كم مكعباً سيحتاج لعمل هذا النمط في المرحلة الثامنة؟

- A 15
- B 20
- C 28
- D 36

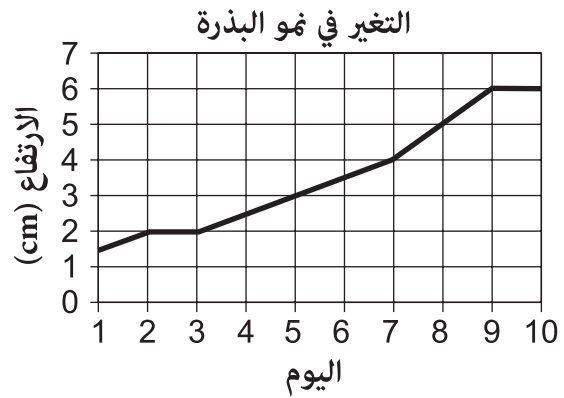
4



كم حرفاً لدى هذا المنشور السداسي؟

- A 8
- B 12
- C 16
- D 18

5 رسمت فاطمة رسمًا بيانيًا كما في الشكل التالي موضحة التغير في نمو بذرة.



كم كان ارتفاع البذرة في اليوم 6؟

3 cm
A

3.5 cm
B

4 cm
C

4.5 cm
D

6 أي مما يلي يمثل $\frac{7}{10}$ ؟

70 A

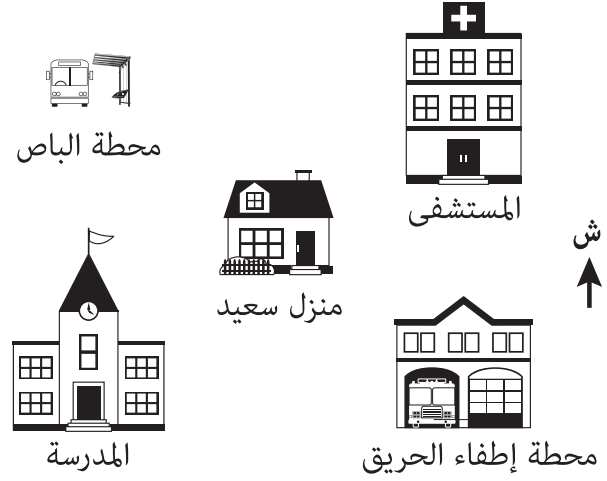
7 B

0.7 C

0.07 D

7

هذه خريطة للحي الذي يسكنه سعيد.




مشى سعيد جنوب غرب منزله.

إلى أين ذهب سعيد؟

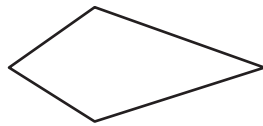
- A المدرسة
- B المستشفى
- C مخطة الباص
- D مخطة إطفاء الحريق

8

أي من الأشكال الآتية يمكن عمله من مثلثين متساويي الأضلاع؟



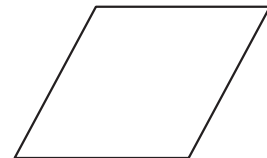
A



B



C



D

9 كم عدد عوامل العدد 24؟

4 A

6 B

7 C

8 D

10 أي مما يلي أقل من النصف وأكثر من الربع؟

0.1 A

0.2 B

0.3 C

0.6 D

الإجابات الصحيحة

A	1
D	2
D	3
D	4
B	5
C	6
A	7
D	8
D	9
C	10

