

الاختبار التدريبي

نبذة عن الاختبار التدريبي

يحتوي الاختبار التدريبي على 10 أسئلة. صمم هذا الاختبار ليعطيك فكرة عن نمط أسئلة اختبار IBT الرئيسي.

أجب على الأسئلة:

كل سؤال لديه أربعة اختيارات. اختر الإجابة الأنسب من الاختيارات الأربعة : **A ، B ، C ، D**.
سوف تجد إجابات الأسئلة في آخر صفحة من هذا الكتيب.

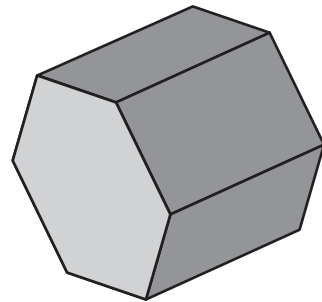
الأدوات المسموح بها في هذا الاختبار

يمكن استخدام قلم رصاص في هذا الاختبار. لا يمكنك استخدام الآلة الحاسبة في هذا الاختبار.

الزمن المخصص للاختبار :

الزمن المحدد لإكمال الاختبار هو 15 دقيقة.

1



كم حرفًا لدى هذا المنشور السداسي؟

- A 8
- B 12
- C 16
- D 18

2

ذهبت فتاة للمشي.

تبين الساعات الوقت الذي بدأت فيه الفتاة المشي والوقت الذي انتهت فيه.



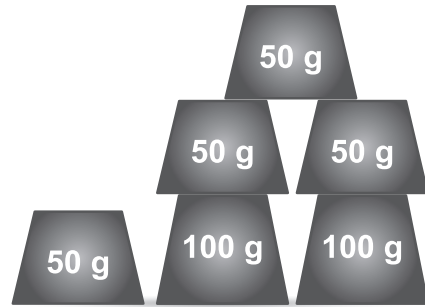
وقت الانتهاء



وقت البدء

كم عدد الدقائق التي مشتها الفتاة؟


- A 8 دقائق
- B 14 دقيقة
- C 20 دقيقة
- D 25 دقيقة



ما المجموع الإجمالي للأوزان السابقة؟

- 300 g A
- 350 g B
- 400 g C
- 600 g D

4 أختين عمر أحدهما 89 عامًا وعمر الأخرى 98 عامًا



ما الفرق بين عمريهما؟

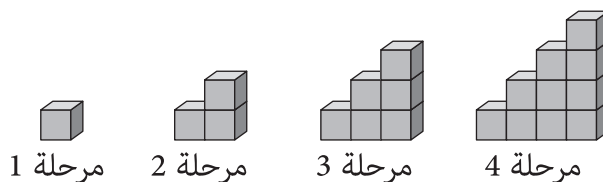
- 8 A
- 9 B
- 10 C
- 11 D

المادة	الكتلة
8 أقلام	120 جرامًا
5 أقلام تلوين	60 جرامًا
10 أقلام رصاص	50 جرامًا
18 فرشاه تلوين	180 جرامًا

5 أي مادة في الجدول هي الأكبر كتلة؟

- A** قلم واحد
B قلم تلوين واحد
C قلم رصاص واحد
D فرشاة تلوين واحدة

6 يقوم خالد بعمل نمطًا معينًا باستخدام المكعبات على عدة مراحل. بحيث لا يوجد مكعبات مخفية.



يستكمل خالد عمل هذا النمط.

كم مكعبًا سيحتاج لعمل هذا النمط في المرحلة الثامنة؟

- A** 15
B 20
C 28
D 36

7

في يوم الإثنين غاب عن المدرسة 5 طلبة من أصل 125 طالبًا.

ما النسبة المئوية للطلبة الغائبين؟

4%

5%

6%

25%

A

B

C

D

8

يقف ولد خارج متجر. وصاحبة المتجر بالداخل.


يرى الولد صاحبة المتجر ويلوح لها.




كيف ترى صاحبة المتجر الولد؟



A



B



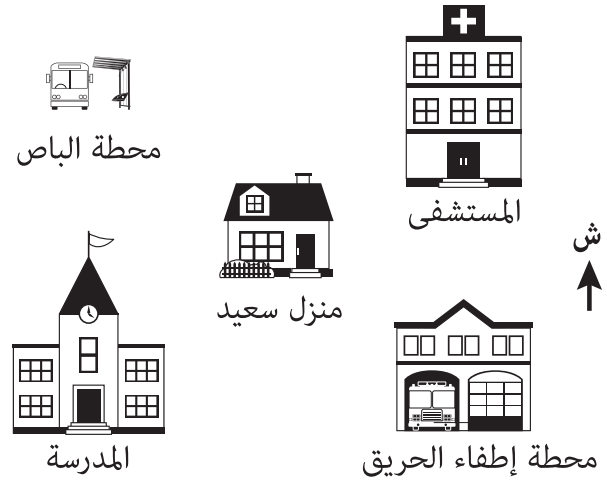
C



D

9

هذه خريطة للحي الذي يسكنه سعيد.



مشى سعيد جنوب غرب منزله.
إلى أين ذهب سعيد؟

- A المدرسة
B المستشفى
C مخطة الباص
D مخطة إطفاء الحريق

10 أي من الأعداد التالية يقبل القسمة على 18؟

- 138 A
210 B
364 C
486 D

الإجابات الصحيحة

D	1
C	2
C	3
B	4
A	5
D	6
A	7
D	8
A	9
D	10

